



PYGMALION

Gグレード1ヶ月目 1回

Gグレード1ヶ月目 1回


チャプター	内容
図形遊び	ペリカンパズル／ペンギン・模様
指先調整能力	折り紙／バツタ
点描写と折り紙	7×6、折り紙／だまし船
知力の育成	かくし絵、動物マンション、絵の合成、平面位置
数論理能力	合わせるといくつですか、計算問題
言語能力	ももたろう

(準備するもの)

ペリカンパズル、折り紙、えんぴつ、消しゴム
ヌマーカステン


ペンギン

G①-I-1
<ペリカンパズル>



模様

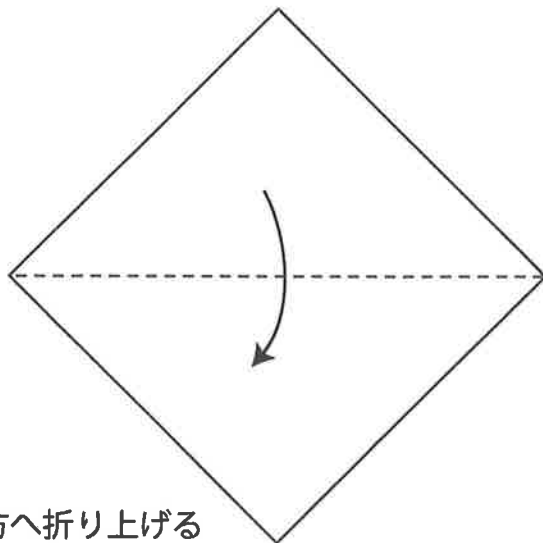
G①-I-2
<ペリカンパズル>



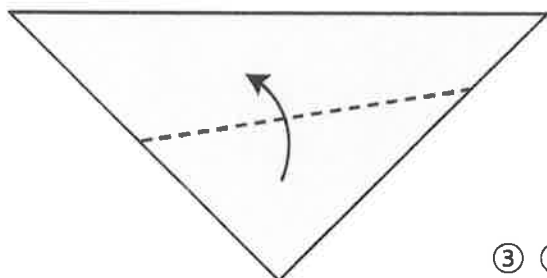
バツタ

G①-I-3
<折り紙>

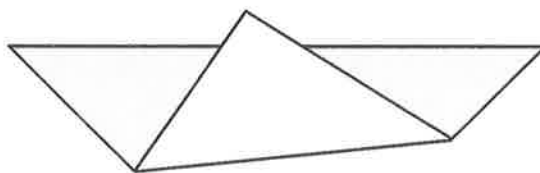
① 矢印の方へ半分に折る



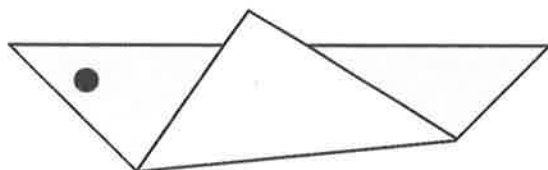
② 上の一枚を点線の位置で矢印の方へ折り上げる
下の一枚も同じように裏側へ折り上げる



③ ②を折ったところ



④ 目をかいてできあがり


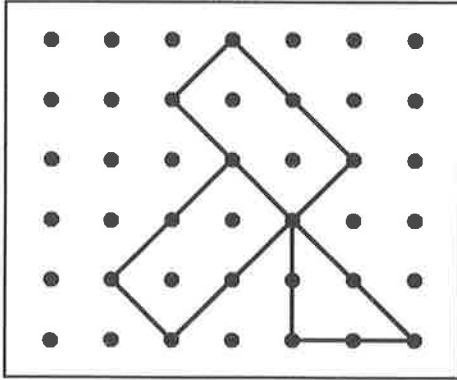


点描写


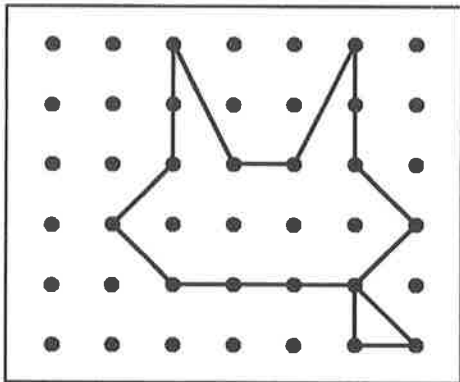
G①-I-4
<点描写>

お手本通りに点をつないで形を作ってください。


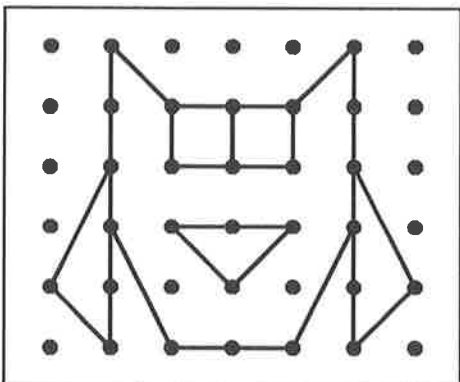
(1)

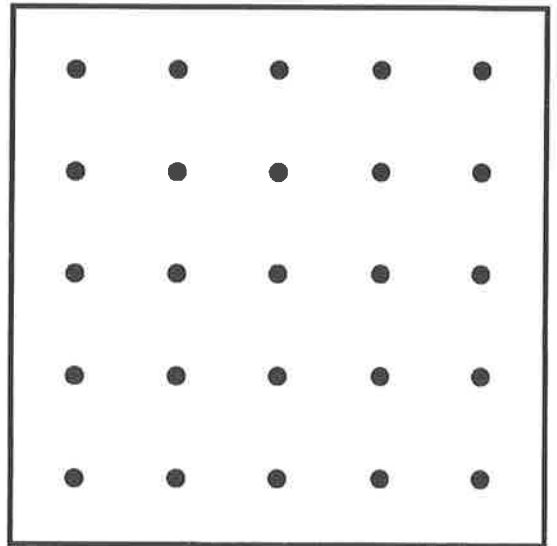

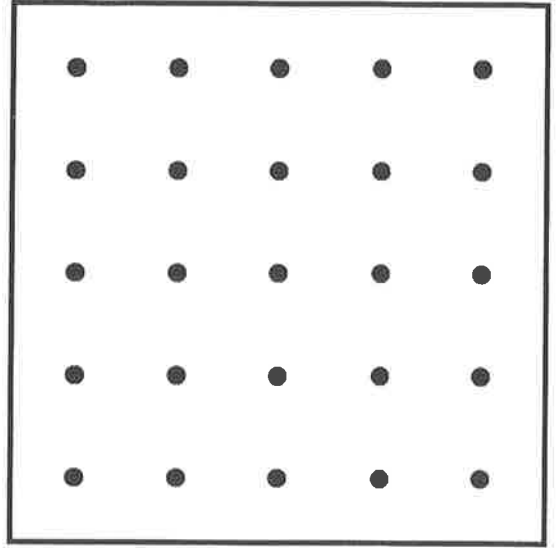



(2)



(3)

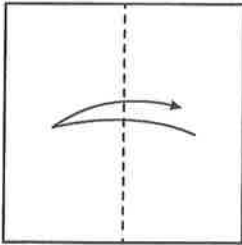




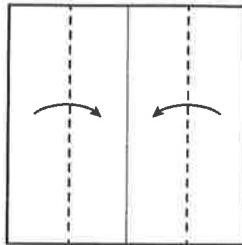
⑳ だまし船

◇ 脳の中で折り、折れ線をえんぴつでなぞりましょう。

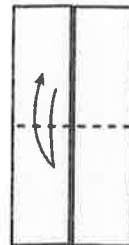
① 2つに折って
折り目をつける



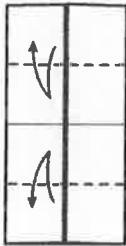
② 線にそって折る



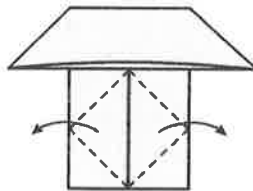
③ 2つに折って
折り目をつける



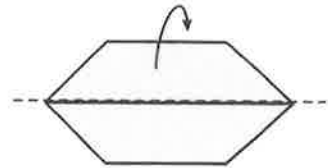
④ 線にそって
折り目をつける



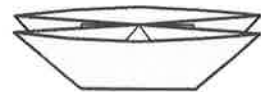
⑤ 内側をひらいて
図のように折る



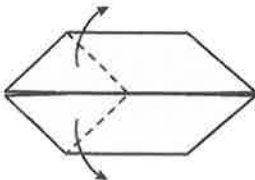
⑥ 2つに折る



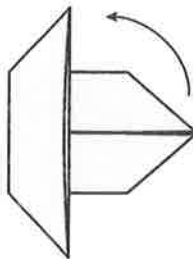
⑦ 二そう船のできあがり



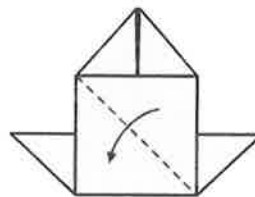
⑧ ひらいてから
線にそって折る



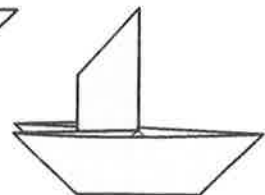
⑨ 左に 90°
まわして
うら返す



⑩ 線にそって折る





⑪ ほかけ船の
できあがり




かくし絵

上の絵には何がかくれていますか。かくれているものを考えて下の絵に○をしてください。




- ① 3かいの みぎから 3ばんめのへやに すんでいるものに ○を。
 ② 5かいの ひだりから 2ばんめのへやに すんでいるものに △を。
 ③ 2かいの みぎから 4ばんめのへやに すんでいるものに □を。
 ④ 1かいの ひだりはしのへやに すんでいるものに ×を。




絵の合成

左はしの 絵の 描けているところには みぎの どの絵が 入ると
 思いますか。正しいものを 見つけて ○を してください。


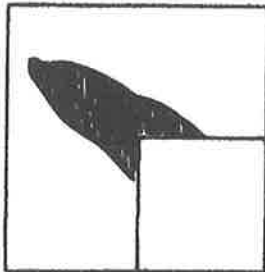
(1)



(2)



(3)

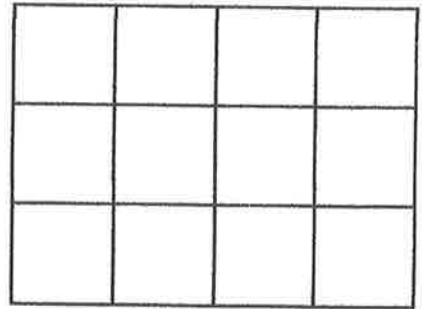
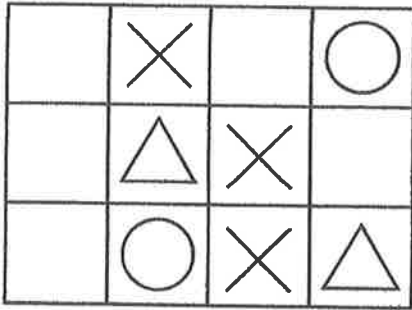


(4)

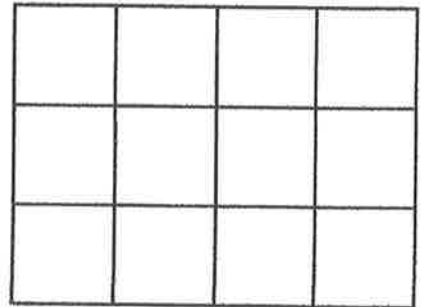
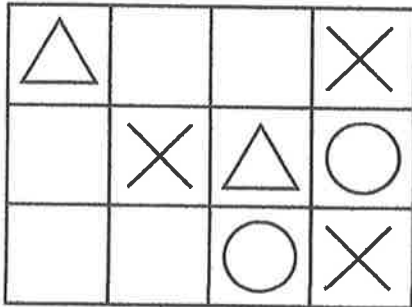


ひだりの おてほんどおりに うつしてください。

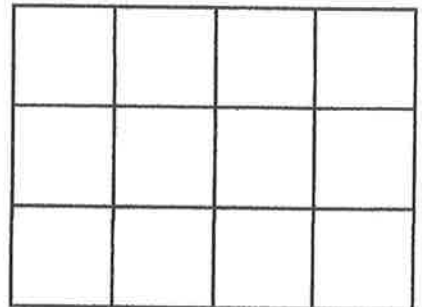
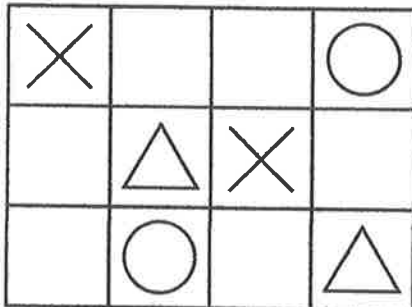
(1)



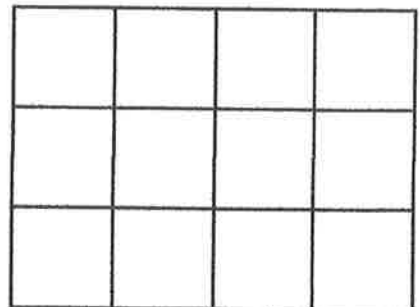
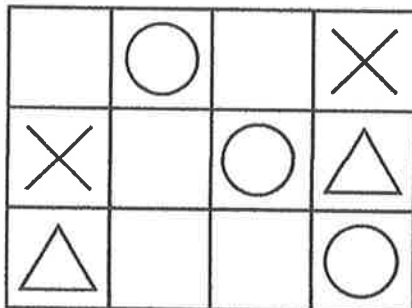
(2)



(3)



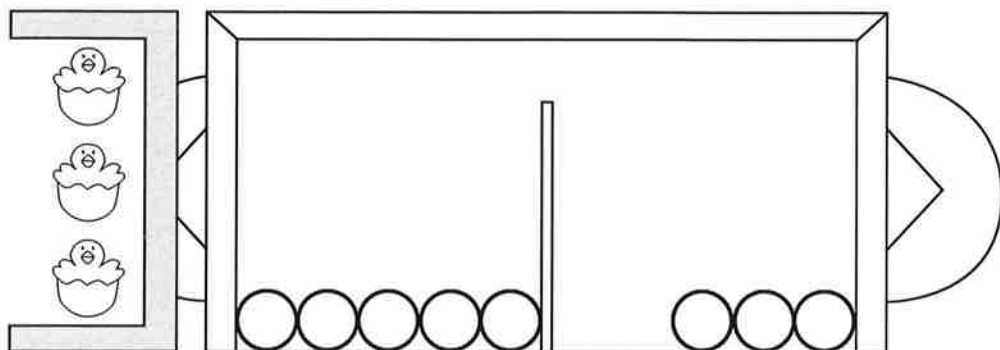
(4)



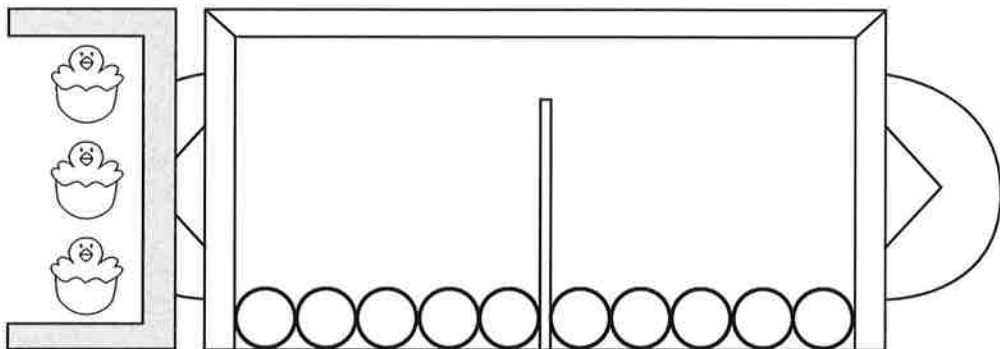
合わせるといくつですか

空白のところに式と答えを書いてください。

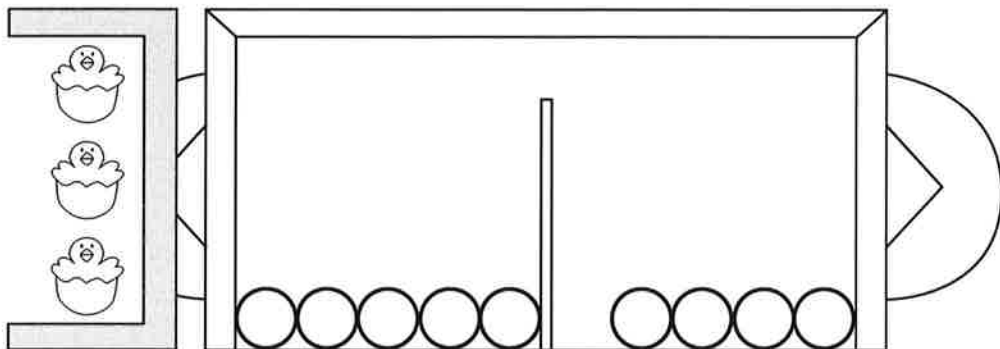
(1)



(2)



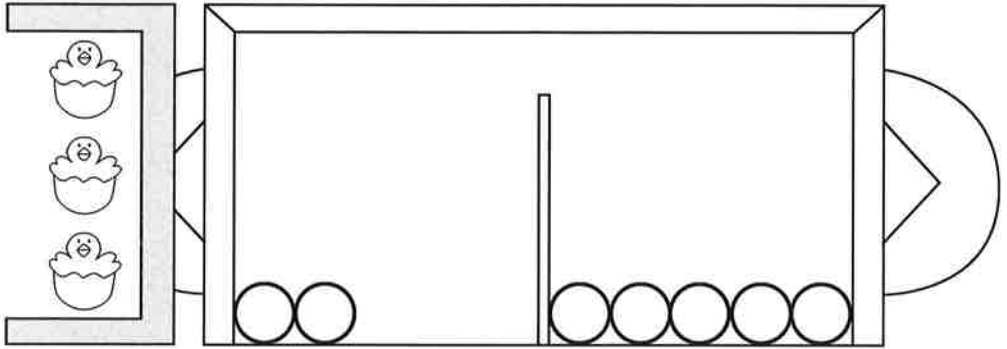
(3)



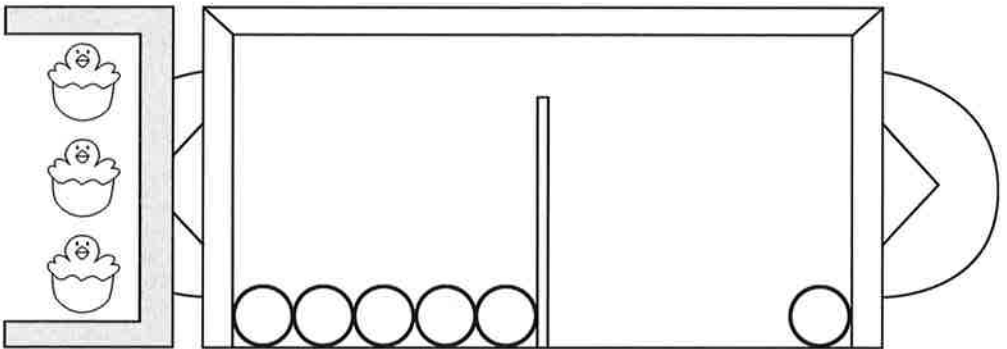
合わせるといくつですか

空白のところに式と答えを書いてください。

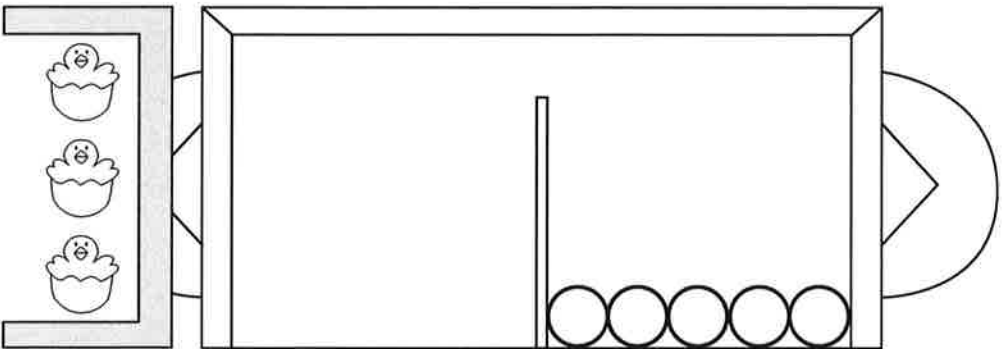
(1)



(2)



(3)



計算問題

次の計算をしてください。

(1) $5 + 2 =$

(2) $1 + 5 =$

(3) $3 + 5 =$

(4) $0 + 5 =$

(5) $5 + 3 =$

(6) $5 + 1 =$

(7) $4 + 5 =$

(8) $5 + 5 =$

(9) $5 + 4 =$

「ももたろう」

- ①昔々、あるところに、おじいさんとおばあさんが住んでいました。ある日、おじいさんは、山へたきぎを取りに出かけました。おばあさんは、川へせんたくに行きました。おばあさんが、川でせんたくをしていると、川上から、大きなももが流れてきました。おばあさんは、喜んで、この大きなももを拾って、帰りました。
- ②おばあさんが、ほうちょうでももを切ると、中から、男の赤ちゃんが出てきました。二人は、ももから生まれたこの男の子を、育てることにしました。そして、ももから生まれたので、『ももたろう』という名前をつけました。やがて、ももたろうは、強くてかっこいい若者に成長しました。
- ③あるとき、ももたろうがおばあさんに言いました。「おにが島へ、おに退治に行きたいと思います。日本一のきび団子を作ってください。」そこで、おばあさんは、きび団子を作って、ももたろうを送り出しました。村はずれまで来ると、犬がやってきて言いました。「ももたろうさん、ももたろうさん、きび団子一つ、私にください。」
- ④「おに退治に、いっしょに行くなら、一つやろう。」犬は喜んで、ももたろうの家来になりました。ももたろうと犬が、歩いていくと、さるがやってきて、きび団子を一つもらって、家来になりました。また、きじも飛んできて、家来になりました。こうして、ももたろうと犬とさるときじは、おにの住むおにが島へと、向かいました。
- ⑤おにが島に着くと、おにの大将が、おそいかかってきました。ももたろうは、きび団子を一つ食べました。すると、力がもりもりとわいてきて、おにの大将をやっつけることができました。おにの大将は、ももたろうの前に手をついて謝りました。「許してください。これからはもう悪いことはしません。」
- ⑥「宝物は、ももたろうさんに、全部差し上げます。」ももたろうは、宝物を車に積んで、犬やさるやきじに引かせて、村に帰ってきました。無事に帰ってきたももたろうを見て、おじいさんとおばあさんは、大喜びです。村人たちも、おにが退治されたので大喜びです。ももたろうは、おにからもらった宝物をみんなに分けてあげました。


「ももたろう」

G①-I-10
<童話・昔話>

①



④



②



⑤



③



⑥

